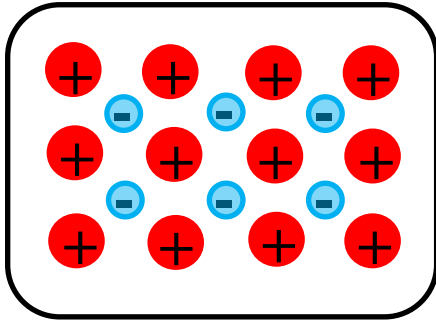
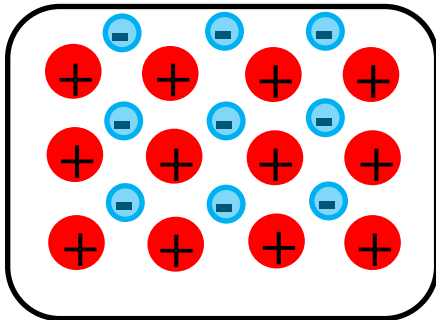


Nennen Sie die Bezeichnung der drei möglichen Ladungszustände, die jeweils als Text beschrieben sind sowie - wenn vorhanden – ihr wichtigstes Merkmal.:

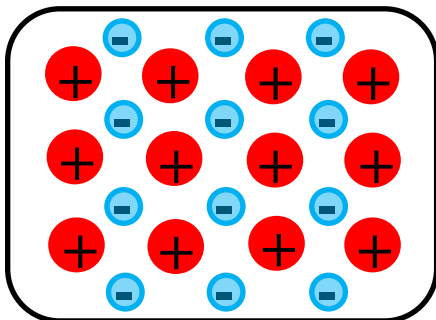


- 1) \_\_\_\_\_  
 Die Anzahl der positiven Ladungen ist größer als die Anzahl der negativen Ladungen.

\_\_\_\_\_



- 2) \_\_\_\_\_  
 Die Anzahl der positiven Ladungen entspricht der Anzahl der negativen Ladungen.



- 3) \_\_\_\_\_  
 Die Anzahl der negativen Ladungen ist größer als die Anzahl der positiven Ladungen.

\_\_\_\_\_